





HOURRA!

DÉFIS EXTÉRIEURS MATHÉMATIQUES

2^e cycle

Trouve 3 brins d'herbe de tailles équivalentes.		
Trouve un objet de la cour qui mesure plus de 1 mètre.		
Fais une ligne de cailloux qui mesure le double d'un bâton de popsicle.		
Avec le bâton, représente les fractions $1/6$ et $2/5$ dans le sable.		
Mesure la longueur et la largeur d'une porte de l'école avec la ficelle et/ou le bâton.	