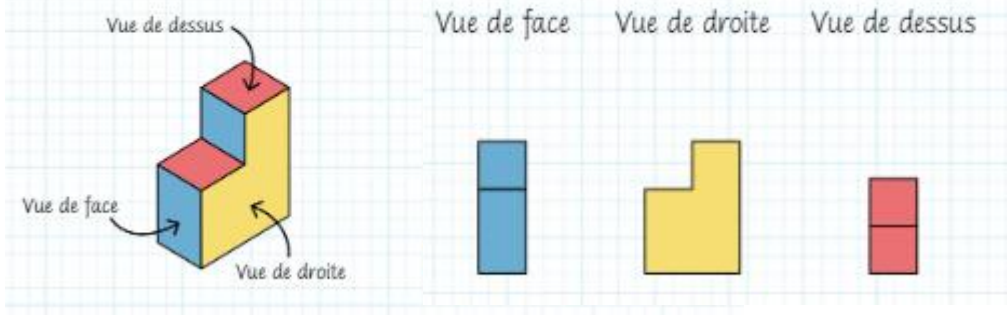


Groupe : _____

Nom des membres de l'équipe : _____

Station #1 – Projections

Les projections orthogonales



Extrait du cahier Carrément Math p. 211




Vue de face


Observe les marches du module de jeu.

Complète les projections orthogonales qu'on peut obtenir avec ces marches.


Vue de face



Vue du dessus



Vue de côté




Station #2 – Aire du solide mauve : un cuboctaèdre! Un cubo-quoi?!?!?

Avec les rubans à mesurer, trouver une stratégie pour trouver l’aire extérieure totale d’un cuboctaèdre mauve. Laissez toutes vos démarches!



Station #3 – Aire de la glissade verte

Avec les rubans à mesure, trouver l'aire latérale intérieure de la glissade verte.



Station #4 – Aire de la boule

Avec les rubans à mesure, trouver l'aire extérieure de la boule verte et mauve. ****Attention, la boule n'est pas entière, tu dois trouver un moyen de bien estimer ta réponse finale.****

