

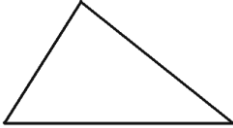
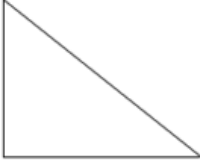
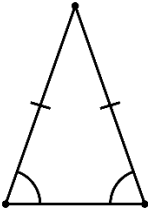
Défi triangles !

Nos prénoms :

Élève 1 : _____

Élève 2 : _____

Consigne : réalise chacun des quatre types de triangles en utilisant ce qui se trouve autour de toi. Tu ne peux pas réaliser deux triangles de la même manière.

<p>Triangle scalène Les 3 côtés sont de longueurs différentes.</p>	
<p>Triangle rectangle L'un des angles est droit (90 degrés).</p>	
<p>Triangle isocèle Avec 2 angles de la même longueur.</p>	
<p>Triangle équilatéral Les 3 côtés sont de la même longueur.</p>	